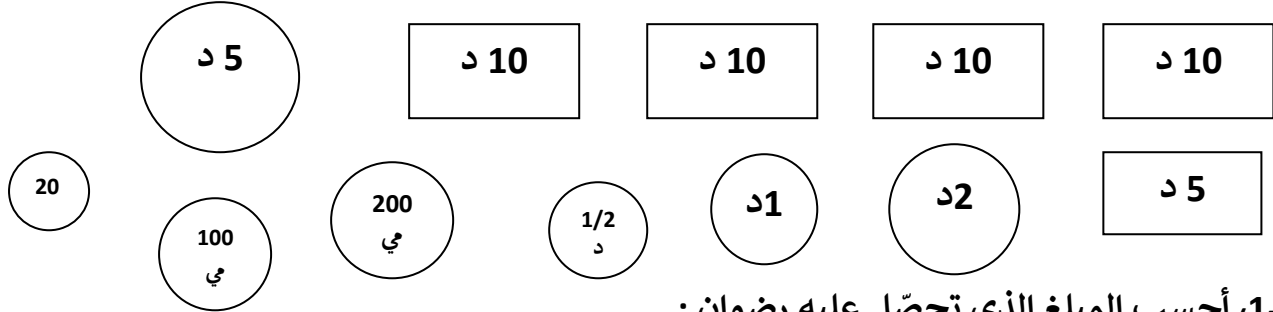


المدرسة الابتدائية
حي السوالمية أم العرائس
المدرس : فيصل ناصري

تقييم الفترة الأولى في مادة
الرياضيات
2023 / 2022

الاسم :
اللقب :
القسم : الرابعة

السند 1 : قام رضوان بكسر حصّالته فوجد بها القطع النقديّة والأوراق الماليّة التالية :



1-1) أحسب المبلغ الذي تحصّل عليه رضوان :

مع 3

السند 2 : قصد رضوان السوق لاقتناء بعض الأغراض، فاختار قميصا ثمنه 29 820 مي وقبّعة ثمنها 16 185 مي ومكّنه البائع من تخفيض في ثمن القميص قدره 4 590 مي.

انجاز العمليّات العموديّة		

1-2) أحسب ثمن القميص بعد التّخفيض :

مع 1

2-2) أحسب المبلغ الذي دفعه رضوان ثمنا للمشتريات :

مع 2

3-2) أحسب المبلغ المتبقّي لرضوان :

4-2) أمثّل المبلغ المتبقّي بأقلّ عدد من القطع والأوراق الماليّة :

مع 3

السند 3 : أعطى رضوان المبلغ المتبقّي لديه للبائع لتسديد ثمن 4 جوارب بـ 2900 مي الواحد.

1-3) أطرح سؤالاً مناسباً لهذه المعطيات يتطلّب مرحلتين لحلّه ثمّ أجيب عنه:

مع 5

2/...

انجاز العمليّات العموديّة

السؤال :

الاجابة :

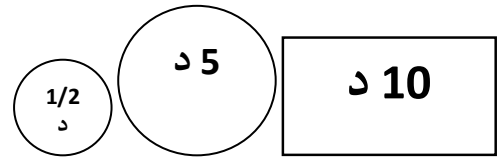
.....

.....

3/...

السند 4 : قامت أخت رضوان الصغرى بكسر حصّالتها هي الأخرى فوجدت داخلها 32 850 مي.

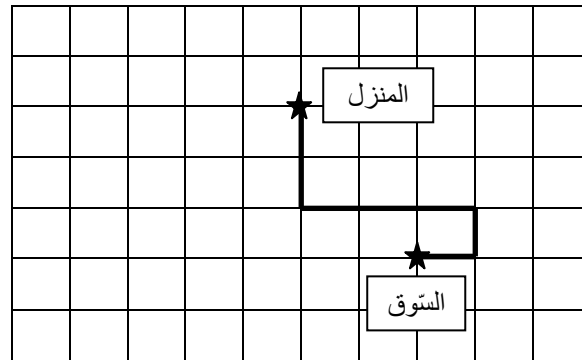
1-4, أكمل تمثيل المبلغ الذي وجدته بما يناسب من أوراق وقطع نقدية :



مع 3



السند 5 : الشبكة التالية تمثّل الحي الذي يقطن به رضوان مرسوم عليها موقع المنزل والسوق والمسلك الذي يصل بينهما :



1-5, عبّر بالأسهم عن المسلك المؤدّي من المنزل الى السوق :

.....

2-5, الكتابة السهميّة التالية تمثّل أحد المسالك من المنزل الى المدرسة، اختصره :



المسلك المختصر :

3-5, أرسم المسلك المختصر على الشبكة انطلاقاً من المنزل وأحدّد من خلاله موقع المدرسة على الشبكة.

مع 4



جدول المعايير وإسناد الأعداد

معيّار التميّز	معايير الحد الأدنى				
	مع 4	مع 3	مع 2	مع 1	
مع 5					
من 0----2	0	0	0	0	انعدام التملك ---
	1,5	1,5	1	1	دون التملك الأدنى - - +
من 0----3	3	3	2	2	التملك الأدنى - + +
	4,5	4,5	3	3	التملك الأقصى + + +